

Índice

| | |
|---|-----------|
| Ficha 1 O Império Português no século XVIII | 4 |
| Ficha 2 A monarquia absoluta no tempo de D. João V | 6 |
| Ficha 3 A monarquia absoluta no tempo de D. José I | 8 |
| Teste de avaliação 1 | 10 |
| Ficha 4 As invasões napoleónicas | 12 |
| Ficha 5 A Revolução Liberal de 1820 | 14 |
| Ficha 6 A luta entre liberais e absolutistas | 16 |
| Teste de avaliação 2 | 18 |
| Ficha 7 A modernização do reino | 20 |
| Ficha 8 A vida quotidiana | 22 |
| Ficha 9 A queda da monarquia e a revolução Republicana | 24 |
| Teste de avaliação 3 | 26 |
| Ficha 10 A 1.ª República | 28 |
| Ficha 11 Instabilidade política e o golpe militar de 28 de maio | 30 |
| Ficha 12 Instituição do Estado Novo | 32 |
| Teste de avaliação 4 | 34 |
| Ficha 13 O Estado Novo | 36 |
| Ficha 14 Oposição ao Estado Novo | 38 |
| Ficha 15 O 25 de Abril | 40 |
| Teste de avaliação 5 | 42 |
| Ficha 16 A consolidação do regime democrático | 44 |
| Ficha 17 A população portuguesa e o território, atualmente | 46 |
| Ficha 18 As atividades económicas e de lazer, e a relação com o Mundo | 48 |
| Teste de avaliação 6 | 50 |
| Teste final | 52 |
| Soluções | 56 |

Teste de avaliação 3

1. Observa o documento 1.

1.1 Que informação nos dá o mapa de modo a concluirmos que a produção agrícola era muito baixa?

2. Refere duas medidas adotadas pelos governos liberais para aumentar a produção agrícola.

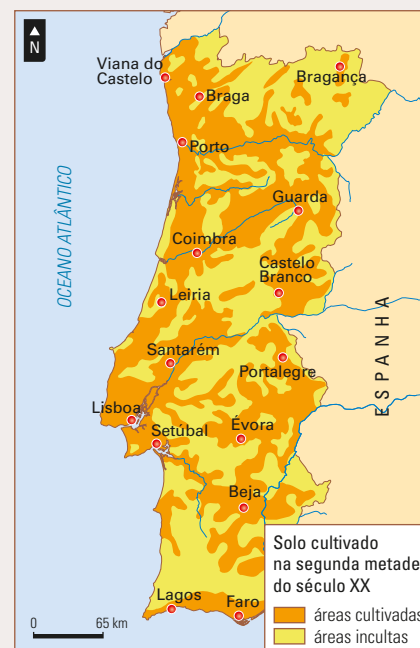
3. Observa o documento 2.

3.1 Identifica as principais zonas industriais portuguesas representadas no mapa.

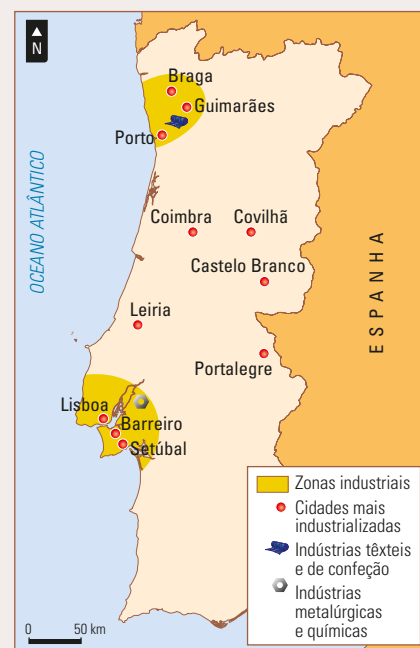
3.2 Consideras que Portugal era um país muito industrializado? Justifica a tua resposta.

4. Enumera os meios de comunicação desenvolvidos na segunda metade do século XIX.

5. Refere as vantagens proporcionadas pelos novos meios de comunicação.



Doc. 1 Área cultivada na segunda metade do século XIX, em Portugal.



Doc. 2 As principais zonas industriais em Portugal na segunda metade do século XIX.

6. Assinala com **F** as afirmações falsas e com **V** as verdadeiras.

- A partir da revolução liberal de 1820 a burguesia ganhou cada vez mais poder.
- O povo, nessa altura, melhorou as suas condições de vida.
- Na esperança de melhorar o seu quotidiano, muitas pessoas deslocaram-se do campo para a cidade.
- Na mesma época, muitos outros emigraram, sobretudo para o Brasil.
- As cidades da segunda metade do século XIX conheceram grandes transformações.

6.1 Corrige as afirmações que consideraste falsas.

7. Lê as seguintes afirmações relativas às causas da queda da monarquia e preenche a tabela abaixo com a alínea respetiva.

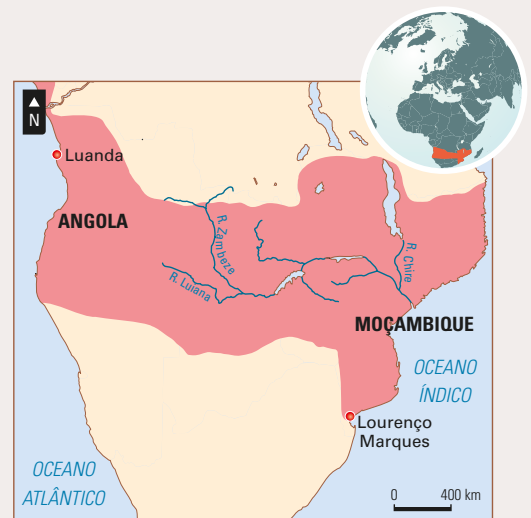
- a. Endividamento em relação ao estrangeiro.
- b. Elevada taxa de analfabetismo.
- c. A monarquia hereditária não permitia a escolha do chefe de Estado.
- d. Os governos eram incapazes de resolver os problemas do reino.
- e. Portugal continuava, no início do século XX, a ser um país pobre e pouco desenvolvido.

| Causas económicas | Causas políticas | Causas sociais |
|-------------------|------------------|----------------|
| | | |

8. Observa o documento 3.

8.1 Preenche a seguinte tabela com base no episódio retratado no documento 3.

| Em que consistia | País que discordou | Nome por que ficou conhecido o episódio |
|------------------|--------------------|---|
| | | |



Doc. 3 Mapa Cor-de-Rosa.

8.2 Explica a relação entre o Mapa Cor-de-Rosa e o Ultimato Inglês.

O 25 de Abril

A partir de 1961, a população portuguesa passou a ter mais um motivo para desejar a queda do regime: o início da **Guerra Colonial**.

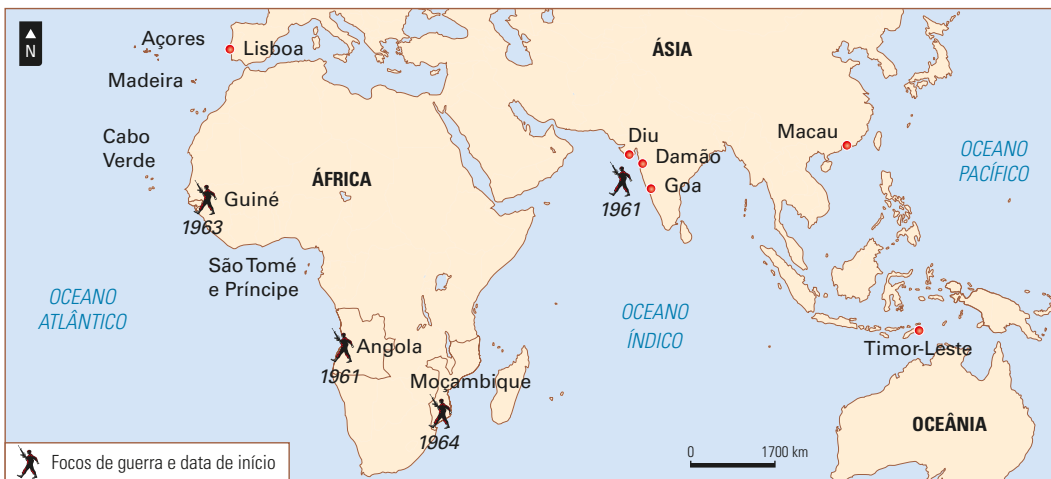
Os territórios que Portugal possuía em África, à semelhança do que acontecera com outras **colónias** europeias, desejavam a **independência**, mas Salazar negou-lhes esse direito. Em 1961 rebentou, em Angola, a primeira revolta colonial que se alastrou a outros territórios, como Moçambique e Guiné. O envio de tropas portuguesas para a Guerra Colonial teve várias consequências negativas para Portugal. Ao elevado número de mortos e feridos que se registaram ao longo dos 13 anos que durou a guerra, somavam-se as avultadas despesas que Portugal teria de pagar pelo conflito, bem como o crescente descontentamento dos militares.



Assim, a **25 de abril de 1974** ocorreu em Portugal um movimento militar que pôs fim ao Estado Novo.

O **descontentamento** da população já se vinha fazendo sentir desde há muito tempo devido, além da Guerra Colonial, à falta de **liberdade de expressão**, proibição da existência de partidos políticos, ausência de eleições livres e democráticas e às más condições de vida que provocavam muita emigração.

1. Analisa os documentos 1 e 2.



Doc. 1 A Guerra Colonial.

| Tipo de deficiência | N.º de militares portadores de deficiência |
|--------------------------|--|
| Amputados | 1717 |
| Cegos e amblíopes | 52 |
| Cegueira parcial | 476 |
| Paraplegias | 151 |
| Surdez (total e parcial) | 381 |
| Doenças mentais | 568 |
| Fraturas múltiplas | 3193 |

Doc. 2 Consequências da Guerra Colonial. Fonte: João de Melo, *Os Anos da Guerra, 1961-1975*, Círculo de Leitores, 1988.

1.1 Preenche a seguinte tabela.

| Episódio retratado | Territórios envolvidos | Motivo | Consequências |
|--------------------|------------------------|--------|---------------|
| | | | |

2. Lê o documento 3.

O 25 de Abril de 1974 foi feito por muitos militares da Marinha, do Exército e da Força Aérea, por milicianos e por militares de carreira e também pela população. Mas o grande impulso que o tornou vitorioso foi dado por um grupo de capitães [...]. Eram jovens e tinham um grande desejo de mudança [...]. Já tinham combatido em África e achavam que tinha chegado a altura de dizer «Basta!».

Como tinham de se organizar, deram à organização que criaram o nome de Movimento das Forças Armadas [...].

Para que tudo resultasse bem, era preciso haver um plano de operações e disso se encarregaram oficiais com grande experiência de guerra em África.

José Jorge Letria, *O 25 de Abril Contado às Crianças... e aos Outros*, Terramar, 2009



Doc. 3 O 25 de Abril.

2.1 Completa as seguintes frases com informação do documento 3.

- O episódio retratado pelo documento é o _____.
- Ocorreu a _____.
- Esse episódio teve a participação dos _____.
- O movimento responsável pela sua organização foi _____.

3. Com base nos documentos 1 e 2, regista duas causas do 25 de Abril.

4. Por que razão o 25 de Abril ficou conhecido como a Revolução dos Cravos?
